




Samlagning með peningum.

1.  = 
 =   

heildarverð = _____

2.  =   
 =   = 

heildarverð = _____

3.  =   = 
 =   

heildarverð = _____

4.  = 
 =    

heildarverð = _____

5.  =        
 =   = 

heildarverð = _____

Samlagning með peningum.

6.  = 

 =          heildarverð = _____

7.  =     

 =    heildarverð = _____

8.  =  

 =    heildarverð = _____

9.  =    =   

 =    heildarverð = _____


10.  =      

 =     heildarverð = _____

Samlagning með peningum.

epli	50 kr.	banani	30 kr.	gulrót	10 kr.
ananas	50 kr.	jarðaber	70 kr.	ferskjur	75 kr.
tómatar	88 kr.	mjólk	67 kr.	ostur	120 kr.
súkkulaði	55 kr.	egg	120 kr.	pasta	64 kr.
hrísgrjón	89 kr.	paprika	33 kr.		

1.



heildarverð = _____

2.



heildarverð = _____

3.



heildarverð = _____

4.



heildarverð = _____

5.



heildarverð = _____

6.



heildarverð = _____

Samlagning með peningum.

epli	50 kr.	banani	30 kr.	gulrót	10 kr.
ananas	50 kr.	jarðaber	70 kr.	ferskjur	75 kr.
tómatar	88 kr.	mjólk	67 kr.	ostur	120 kr.
súkkulaði	55 kr.	egg	120 kr.	pasta	64 kr.
hrísgrjón	89 kr.	paprika	33 kr.		

7.



heildarverð = _____

8.



heildarverð = _____

9.



heildarverð = _____

10.



heildarverð = _____

11.



heildarverð = _____

12.




heildarverð = _____

Samlagning með peningum.

Verðlisti

epli	50 kr.	banani	30 kr.	gulrót	10 kr.
ananas	50 kr.	jarðaber	70 kr.	ferskjur	75 kr.
tómatar	88 kr.	mjólk	67 kr.	ostur	120 kr.
súkkulaði	55 kr.	egg	120 kr.	pasta	64 kr.
hrísgrjón	89 kr.	paprika	33 kr.	skinka	133 kr.
beikon	127 kr.				

1.



heildarverð = _____

2.



heildarverð = _____

3.



heildarverð = _____

4.



heildarverð = _____

5.



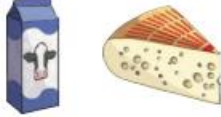
heildarverð = _____

6.




heildarverð = _____


Samlagning með peningum.

7. 


heildarverð = _____

8. 


heildarverð = _____

9. 


heildarverð = _____

10. 


heildarverð = _____

11. 


heildarverð = _____

12. 

heildarverð = _____

13. 

heildarverð = _____

14. 

heildarverð = _____

Samlagning með peningum.

Leiðbeiningar: Finnið út hvað kostar að versla í uppskriftirnar með því að nota verðlistann.

Uppskrift 1: Ávaxtasalat



heildarverð = _____

Uppskrift 2: Rjómalagað grænmetis pasta



heildarverð = _____

Uppskrift 3: Eggjakaka



heildarverð = _____